

Name: _____ Reg. No. _____ Class: _____

**Sacred Heart College
Junior School
Annual Sample**

Total: ____/80

Year 4

Studji Soċjali

Duration: 1 hour 30mins

WRITE YOUR NAME ON EVERY SHEET OF PAPER USED.

ANSWER ALL QUESTIONS.

Storja

A. Dun Mikiel Xerri

Wieġeb il-mistoqsijiet



(11-il marka)

1. Xi kwalitajiet kellu Dun Mikiel Xerri? (3 marki)

2. Għaliex lil Dun Mikiel Xerri nsejnhulu 'eroj'? (2 marki)

3. Għaliex il-Maltin qamu kontra l-Francċiżi? (2 marki)

4. X'jigifieri meta ngħidu li Dun Mikiel Xerri kien 'patrijott qalbieni'? (2 marki)

5. X'hemm f'nofs Pjazza Indipendenza fil-Belt Valletta? (marka)

6. X'għajjat Dun Mikiel Xerri qabel miet? (marka)



Subtotal: 11

Name: _____ Reg. No. _____ Class: _____

B. Dun Karm Psaila u San Ġorġ Preca

1. Psaila jew Preca? Ikteb il-kunjom tal-personaġġ Malti fil-kaxxi provduti.

(4 marki)



1. Kiteb il-versi tal-Innu Malti	
2. Waqqaf is-soċjeta tal-MUSEUM	
3. Beda l-purċissjoni bil-Bambin tal-Milied	
4. Wera determinazzjoni meta beda jikteb poeziji bil-lingwa Maltija	
5. Il-monument tiegħu qiegħed il-Furjana	
6. Inqisuh patrijott kbir	
7. Ġie ddikjarat qaddis fis-sena 2007	
8. Għallem lill-membri tal-għaqda tiegħu biex iħobbu l-Bibbja	

Subtotal: 4

2. Ikteb il-kelma skond l-ispazju provdut.

Dun Karm (4 marki)

1. L-Innu Nazzjonali ta' Malta għandu forma ta' _____.
2. Kunjom Dun Karm kien _____.
3. Għamel l-ewwel _____ Malti – Ingliz.
4. Dun Karm huwa l- _____ nazzjonali.



San Ġorġ Preca (4 marki)

1. Dun Ġorġ Preca baqa magħruf għax-xogħol li wettaq fil-qasam tat-tagħlim tal- _____.
2. Huwa tweled il-Belt _____ imma għex għal żmien twil fil-paroċċa ta' San Gejtanu, l- _____.
3. Dun Ġorġ insista ħafna biex il-membri tal- MUSEUM jitharrġu sew fil-għerf dwar il- _____, sabiex imbagħad ikunu jistgħu jgħallmu l-mużew.



Subtotal: 8

Ċivika

ċ. Pingi xi ħaġa f'kull kaxxa biex turi x'għandek tagħmel jew m'għandekx tagħmel biex tħares l-AMBJENT ta' madwarek.

(2 marki)

X'nagħmel

X'ma nagħmilx

D. Ikteb **Tajjed** jew **Hazin** ħdejn dawn is-sentenzi (6 marki)

1. Il-batteriji għandna nisseparawhom mill-iskart l-ieħor. _____

2. Tajjed li nżommu l-volum tar-radju għoli kemm jista' jkun. _____

3. Għandna dejjem inżommu nadif. _____

4. Meta narmu l-iskart, tajjed li narmu kollox f'daqqa. _____

5. Is-sigar għandna nirrispettawhom. _____

6. Għandna nħallu l-kelb jew il-qattus tagħna jħammeġ barra.

Subtotal: 8

Name: _____ Reg. No. _____ Class: _____

E. Mezzi ta' Komunikazzjoni.

(7 marki)

Żewġ mezzi ta' transport huma _____ u _____



In-nies li jitilgħu fuq ix-xarabank jissejġhu _____ u dawn jitilgħu jew _____ fuq ix-xarabank sa ma jaslulha sad-destinazzjoni li jkunu jridu jmorru.

Il-kumpanija tal-ajru Maltija jismha _____.

In-nies li jżuru Malta għal vaganzi nsejġulhom _____.

Il-port fejn isorġu l-cruise liners f'Malta nsejġulu l- _____.




Subtotal: 7

F. Sigurta` fit-triq.

(8 marki)

Kif għandi ngħib ruħi fit-triq? Ikteb lva jew Le ħdejn kull sentenza.

1. Għandi nuża ż-żebra crossing biex naqşam. _____
2. Tajjeb li niġri waqt li naqşam. _____
3. Meta d-dawl ikun aħmar inkun nista' naqşam għan-naħa l-oħra. _____
4. Dejjem għandi nimxi fuq il-bankina meta nkun fit-triq. _____
5. Waqt li qed naqşam it-triq, noqgħod nilgħab bil-ballun. _____
6. Waqt li qed naqşam it-triq noqgħod nisma' l-mużika bil-head phones. _____
7. Jekk inkun tard, ma naqşamx minn fuq iż-żebra crossing. _____
8. Fuq il-karozza tal-linja tajjeb li nċedu postna għal xi ħadd anzjan. _____



Subtotal: 8

Mezzi ta' Komunikazzjoni.



Ġ. Semmi 3 tipi ta' Mezzi ta' Komunikazzjoni u għid xi ħaġa dwarhom:

(3 marki).

Per Eżempju: Il-karozza tgħina biex naslu minn post għall ieħor fuq l-art

1.

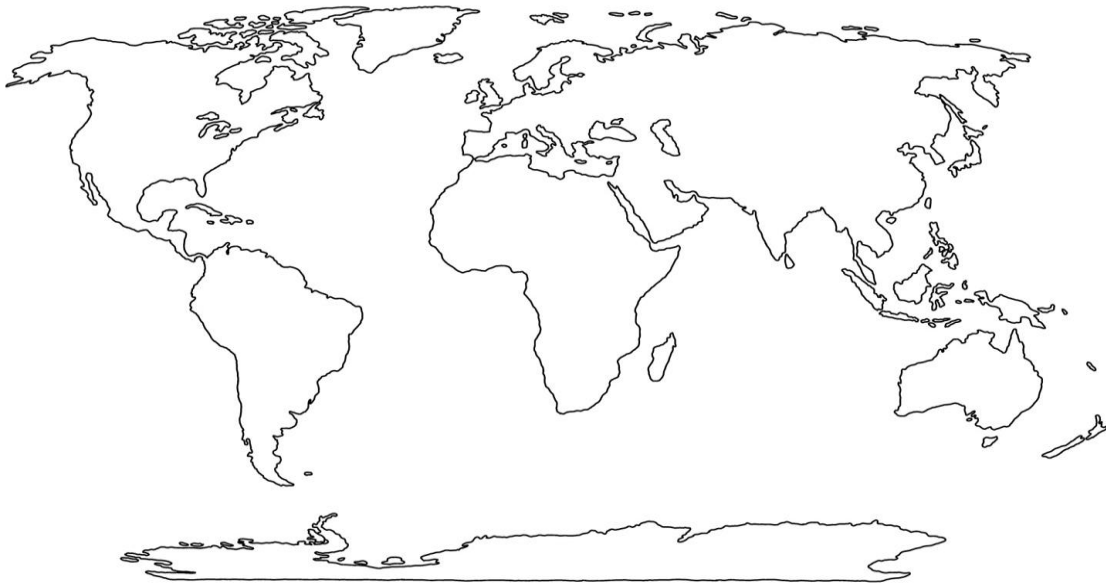
2.

3.

Subtotal: 3

Ġeografija

G. Il-Mappa tad-Dinja (10 marki)

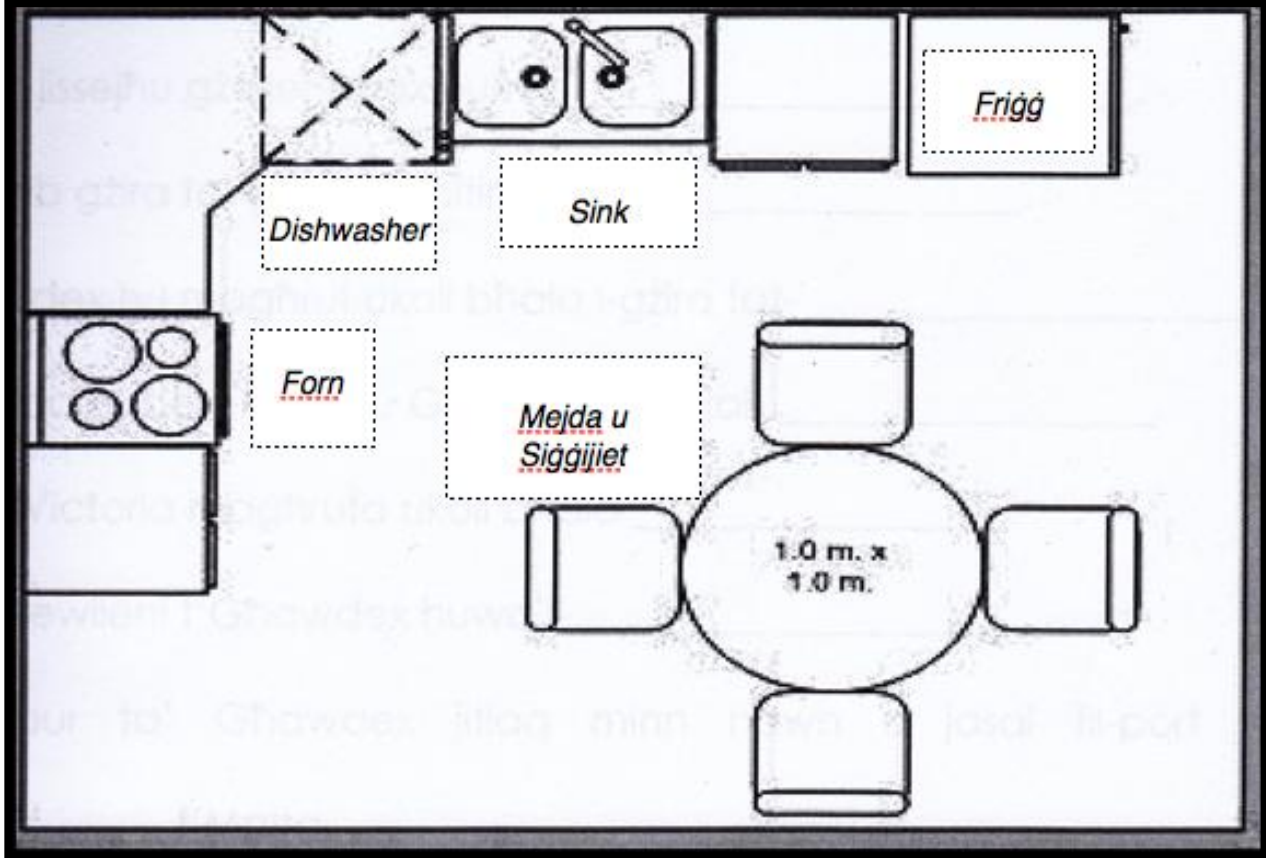


- 1) Bċejjeċ kbar ta' art jissejġu _____.
- 2) Immarka l-Ewropa bl-ittra (E) u l-Afrika bil-ittra (A) fuq il-mappa.
- 3) Bejn il-kontinenti insibu ibħra kbar li jissejġu _____.
- 4) Immarka l-oċean Indjan bl-ittra (I) u l-oċean Paċifiku bl-ittra (P) fuq il-mappa.
- 5) Pingi l-Baħar Mediterran bil-BLU fuq il-mappa.
- 6) L-_____ hi maqsuma f'żewġ biċċiet art kbar.
- 7) Malta tagħmel parti mill-_____.
- 8) Barra l-kontinenti hemm ħafna _____ mxerrdin fl-ibħra u fl-oċeani.

Subtotal: 10

Għ. Pjanta (4 marki)

Immagina li din hija l-pjanta tal-kċina fid-dar tiegħek. Issa fl-ispazju ta' taħt, pingi l-pjanta tal-kamra tas-sodda tiegħek.



Name: _____ Reg. No. _____ Class: _____

H. Malta u Għawdex (10 marki)

Imla l-vojt bil-kliem mill-kaxxa ta' taħt.

- 1) Il-gżejjer Maltin jinsabu f' _____ il-Baħar Meditteran.
- 2) Dawn jissejħu gżejjer għax huma _____.
- 3) L-eqreb gżira tal-gżejjer Maltin hija _____.
- 4) Għawdex hu magħruf ukoll bħala l-gżira tat- _____.
- 5) Il-baħar ta' bejn Malta u Għawdex jissejjaħ _____.
- 6) Il-Belt Victoria magħrufa ukoll bħala _____.
- 7) Il-port ewlieni t'Għawdex huwa l-_____.
- 8) Il-vapur ta' Għawdex jitlaq minn hawn u jasal fil-port taç- _____ f'Malta.
- 9) L-Imdina tinsab fuq _____ u hija mdawwra bis-swar bħaç- Ċittadella.
- 10) L-Imdina hija magħrufa wkoll bħala l-Belt _____.

Imgarr	mdawwrin bil-baħar	Sqallija	
għolja	Ċirkewwa	Tliet Għoljiet	
siekta	fliegħ	Rabat	nofs

Subtotal: 10

Name: _____ Reg. No. _____ Class: _____

¶. II-Pajjiżi Madwar il-Mediterran (7 marki)



Qabel il-pajjiż mal-belt kapitali tiegħu.

1	Franza		Ateni
2	Greċja		Kajr
3	Marokk		Ruma
4	Eġittu		Parigi
5	Portugall		Lisbona
6	Italja		Algier
7	Alġerija		Rabat

Subtotal: 7